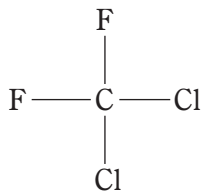


表は、モントリオール議定書に基づく先進国に対するオゾン層破壊物質の削減スケジュールを示したものである。化合物群Cに含まれる化合物として、正しいのはどれか。

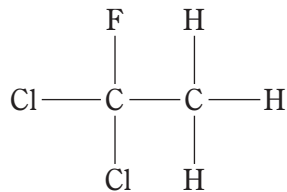
表. モントリオール議定書に基づく先進国に対するオゾン層破壊物質の削減スケジュール (一部)

| 物質名 | | 先進国に対する規制スケジュール | |
|-----------------|-----|-----------------|------------------------|
| A | | 1996年以降 | 全 廃 |
| B | | 1994年以降 | 全 廃 |
| その他のクロロフルオロカーボン | | 1996年以降 | 全 廃 |
| 1,1,1-トリクロロエタン | | 1996年以降 | 全 廃 |
| C | 消費量 | 2020年以降 | 全 廃 (既存機器への補充に関する例外あり) |
| | 生産量 | 2020年以降 | 全 廃 (既存機器への補充に関する例外あり) |

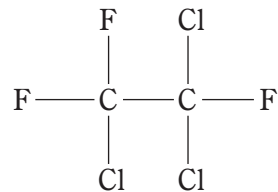
1.



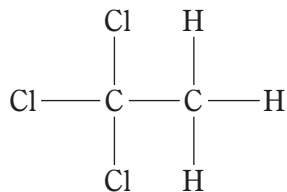
2.



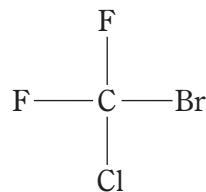
3.



4.



5.



(正答 2)

